

みてからやるか やってからみるか

name

小学二年 算数(4) たし算とひき算 ひき算 編

ある数を□と10にわける練習

28は □ と 10

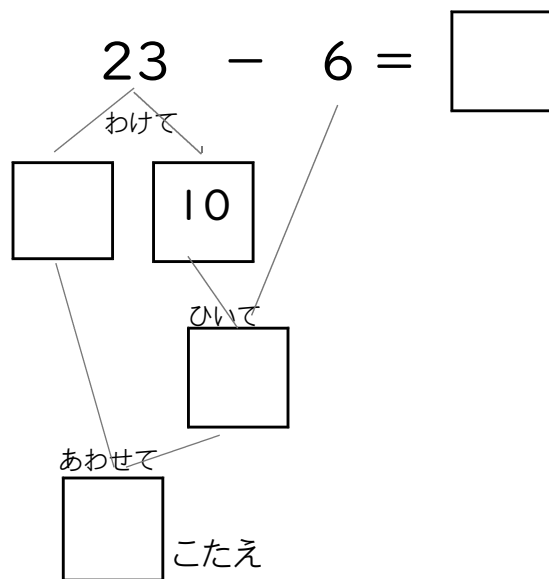
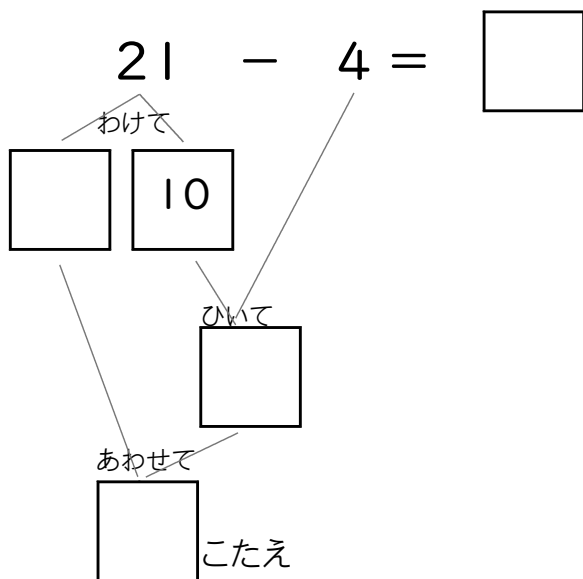
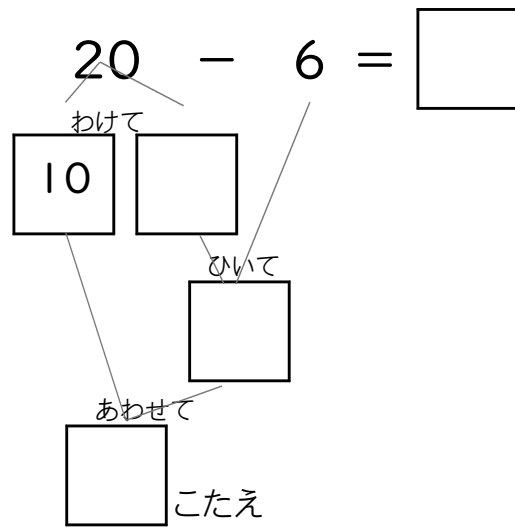
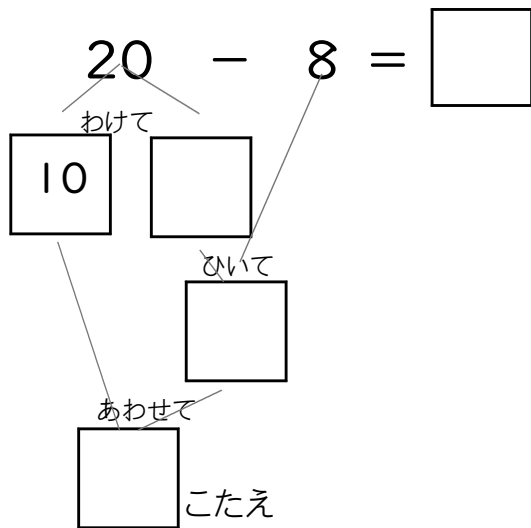
23は □ と 10

22は □ と 10

26は □ と 10

34は □ と 10

46は □ と 10



$$\textcircled{1} \quad 25 - 6 = \square$$

15と10

$$\textcircled{2} \quad 23 - 8 = \square$$

13と10

$$\textcircled{3} \quad 24 - 7 = \square$$

14と10

$$\textcircled{4} \quad 22 - 7 = \square$$

12と10

$$\textcircled{5} \quad 26 - 8 = \square$$

□と10

$$\textcircled{6} \quad 24 - 6 = \square$$

□と10

$$\textcircled{7} \quad 28 - 9 = \square$$

□と10

$$\textcircled{8} \quad 23 - 9 = \square$$

□と10

$$\textcircled{9} \quad 16 - 7 = \square$$

6と10

$$\textcircled{10} \quad 27 - 9 = \square$$

□と10

$$\textcircled{11} \quad 26 - 4 = \square$$

$$\textcircled{12} \quad 13 - 7 = \square$$

$$\textcircled{13} \quad 16 - 7 = \square$$

$$\textcircled{14} \quad 24 - 9 = \square$$

$$\textcircled{15} \quad 26 - 8 = \square$$