


みてからやるか やってからみるか

小学四年 算数(1)

問の数

name

8本の木を 一列に並べてうえました。木は、2mずつはなしてうえました。
両端の木と木の間は、何mになりますか。

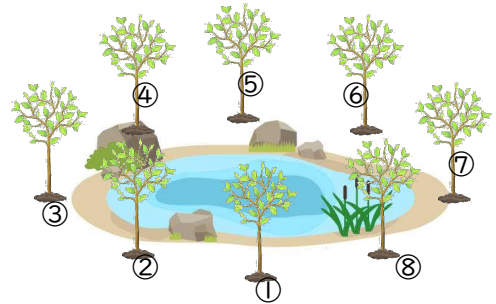


式

答え


池の周りに、2mおきに8本の木が植えてあります。
この池の周りは、何mですか。

式




答え

4年生 15人の男子が、1列に並んでいます。きよしさんは、前から5番目で、
けいじさんは、後ろから4番目です。この二人の間には何人いますか。



答え

5年生 15人の男子が、1列に並んでいます。しょうさんの前には4人、
けんごさんの後ろには3人います。この二人の間には何人いますか。



答え

木を9mの間隔で、10本植えた。両端の木と木の長さは、何mか。

20mの道の端から端までに 2mおきに木を植えると全部で何本必要か。

50mの道の両側に5mおきに旗を立てる。スタートとゴールには旗ではなく
ゲートを立てるとき、旗は全部で何本必要か。